


KHỞI ĐỘNG




Quan sát hình 1, em hãy cho biết công trình kiến trúc nào được thể hiện trên Quốc kì Vương quốc Cam-pu-chia?





*Ăng - co Vát là quần thể đền đài
tại cam-pu-chia, thu hút du
khách hàng đầu nước này. Công
trình là đỉnh cao của phong cách
kiến trúc khơ-me, trở thành biểu
tượng của đất nước và xuất hiện
trên Quốc kì Cam-pu-chia.*



TÓM TẮT LỊCH SỬ CAMPUCHIA

Thứ...ngày...tháng...năm...

Lịch sử - Địa lý

Vương quốc Cam-pu-chia



ĐẾ QUỐC KHMER



VƯƠNG QUỐC CAMPUCHIA

Yêu cầu cần đạt

- **Xác định được vị trí địa lí của Cam-pu-chia trên bản đồ hoặc lược đồ.**
- **Nêu được một số đặc điểm cơ bản về tự nhiên và dân cư của nước Cam-pu-chia.**

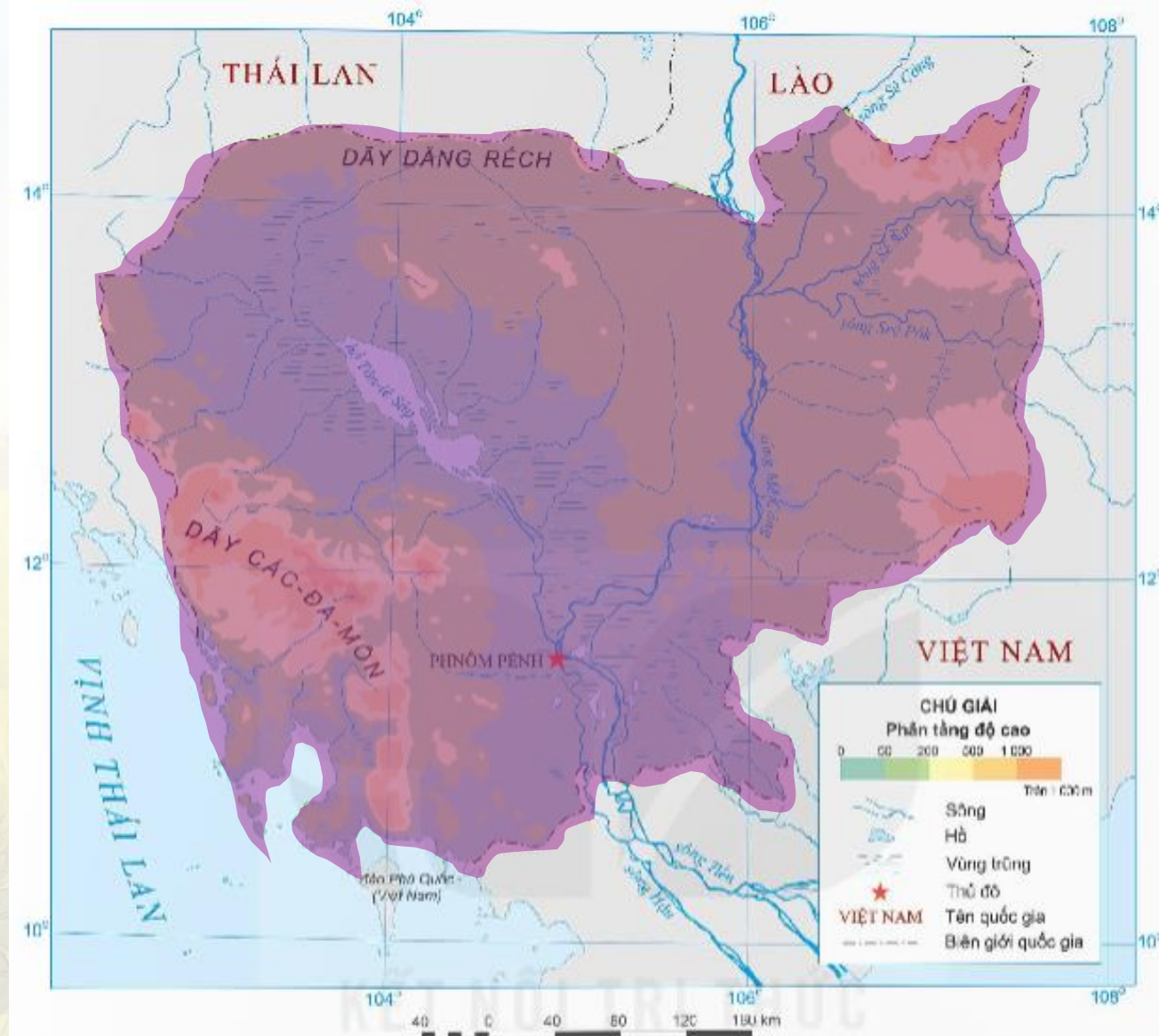
KHÂM PHÁ



Hoạt động 1: Tìm hiểu về vị trí địa lí của nước Cam-pu-chia.



Đọc thông tin và quan sát hình 2, em hãy xác định vị trí địa lí của Cam-pu-chia trên lược đồ.



▲ Hình 2. Lược đồ tự nhiên Cam-pu-chia

Cam-pu-chia là đất nước thuộc khu vực nào của châu Á?



moo.eetgna

Cam-pu-chia thuộc khu vực Đông Nam Á của châu Á.

**Kể tên các quốc gia tiếp giáp với
Cam-pu-chia.**



**Cam-pu-chia tiếp giáp các quốc
gia: Lào và Thái Lan ở phía bắc,
Việt Nam ở phía đông, vịnh
Thái Lan ở phía tây nam.**

KẾT LUẬN



Cam-pu-chia tiếp giáp với Lào và Thái Lan ở phía bắc, Việt Nam ở phía đông, vịnh Thái Lan ở phía tây nam.



**Hoạt động 2. Tìm
hiểu về đặc điểm
tự nhiên và dân cư
Cam-pu-chia**



Đọc thông tin mục 2 và quan sát hình 2: Hoàn thành bảng dưới đây

Thành phần	Đặc điểm
Địa hình	
Khí hậu	
Sông, hồ	

Thành phần	Đặc điểm
Địa hình	Chủ yếu là đồng bằng
Khí hậu	Cận xích đạo, với một mùa mưa và một mùa khô rõ rệt.
Sông, hồ	<ul style="list-style-type: none">- Sông Mê Công là sông lớn nhất, cung cấp lượng nước dồi dào cho đất nước này.- Hồ Tôn-lê Sáp của Cam-pu-chia là hồ nước ngọt lớn nhất Đông Nam Á.

Em có biết?

Diện tích của hồ Tôn-lê Sáp thay đổi theo mùa. Vào mùa mưa, diện tích hồ tăng lên, thường lớn gấp ba lần diện tích hồ vào mùa khô.



LUYỆN TẬP



**Dựa vào lược đồ tự nhiên Cam-pu-chia,
em hãy kể tên:**

- a) Các quốc gia tiếp giáp với Cam-pu-chia.
- b) Một số dãy núi, sông và hồ lớn ở Cam-pu-chia.

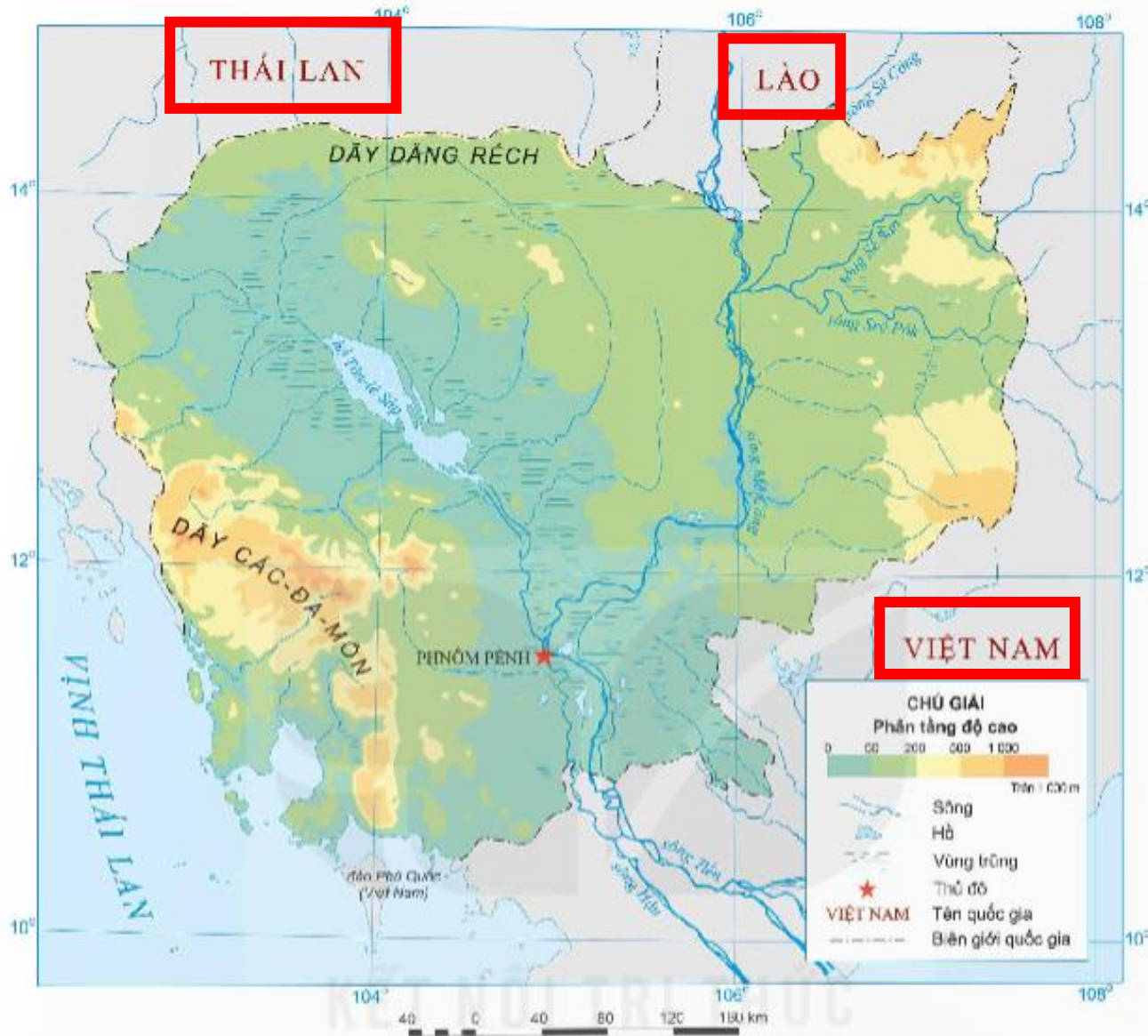




Các quốc gia tiếp giáp
với Cam-pu-chia



Một số dãy núi, sông
và hồ lớn ở Cam-pu-
chia: **sông Sê Công,**
sông Sê San, dãy Các-
đa-môn, dãy Đăng
Rếch, hồ Tôn-lê Sáp.



▲ Hình 2. Lược đồ tự nhiên Cam-pu-chia

VAN DUNG



1. Hãy cho biết tên các công trình kiến trúc của Cam-pu-chia mà em muốn đến thăm? Vì sao em lại có lựa chọn đó?





Công trình kiến trúc của Cam-pu-chia mà em muốn đến thăm: đền Ăng-co Vát vì đây là biểu tượng của đất nước Cam-pu-chia và cũng là di tích tôn giáo lớn nhất thế giới. Ngôi đền là đỉnh cao của phong cách kiến trúc Khmer, kiến trúc hùng vĩ và hài hòa của nghệ thuật điêu khắc.

DẶN DÒ



GV ĐIỀN VÀO ĐÂY



GV ĐIỀN VÀO ĐÂY



GV ĐIỀN VÀO ĐÂY



GV ĐIỀN VÀO ĐÂY



**Chúc các em
học tốt**